

météo

Il ...

Il fait ... °c

On mène l'enquête ...



QUI A MENACÉ JEAN ?

La menace au téléphone

(...)

Lafouine décide d'aller interroger les **suspects** et demander leur **alibi**.

(...)

Mathématiques

Adam dessine **six jetons** et les découpe.



Il désire disposer les six jetons sur deux rangées horizontales, trois jetons par rangée. La somme des numéros doit être la même dans chaque rangée.

Répartissez les six jetons.

On aime

http://www.allocine.fr/film/fichefilm_gen_cfilm=2255.html

Histoire et Cinéma

La menace au téléphone

L'inspecteur Lafouine va chez Monsieur Jean Bonot pour l'interroger. La veille, celui-ci a été menacé de mort au téléphone, mais il est sur liste rouge !!! Jean Bonot a donné son numéro à quatre personnes : Louis, Benoît, Paul et Laurent. Il connaît trois personnes sur quatre. Il a juste contacté Jean pour que celui-ci lui garde son chien pendant les vacances.

(...)

Lafouine décide d'aller interroger ***les suspects** et demander ***leur alibi**.

(...)

* **Vocabulaire :**

« **Leur alibi** » : des explications, ce qu'ils ont fait la veille (hier) ...

« **Les suspects** » : les personnes qui ont pu téléphoner à Jean

Quels autres mots, lus depuis le 16 mars, sont du vocabulaire policier

(« pi » police) ?

Surline-les.

L'inspecteur Lafouine est appelé pour une nouvelle enquête à résoudre chez Monsieur Jean Bonot. Celui-ci raconte son histoire :

« Hier, j'ai reçu un coup de fil. Un inconnu m'a menacé de mort. Ce qui est bizarre, c'est que mon téléphone est sur liste rouge.

A qui avez-vous donné votre numéro ? interroge Lafouine.

A quatre personnes, répond Jean. Louis, Benoît, Paul et Laurent.

Et vous les connaissez toutes ?

Oui, sauf Paul, à qui j'ai donné mon téléphone uniquement parce qu'il doit me garder mon chien pendant les vacances. »

Lafouine décide d'aller interroger les **suspects** et demander leur **alibi**. (...)

Qui, l'inspecteur Lafouine va-t-il interroger ?

- ...


- ...

- ...

- ...








Mathématiques

Adam dessine six jetons et les découpe.










Il désire disposer les six jetons sur deux rangées horizontales, trois jetons par rangée. La somme (+) des numéros doit être la même dans chaque rangée.

Répartis les six jetons.

	+		+		=	
	+		+		=	

Exemple

	+		+		=	 18 12
	+		+		=	

18 ≠ 12



Histoire et Cinéma

Complète le tableau

Titre du film	Réalisateur	Année de sortie
..